

2. Juli

Am 2. Juli 1905 wird die Debeka – sie ist heute eine der zehn größten Gesellschaften der Versicherungs- und Bauspar-Branche in Deutschland – als Krankenunterstützungskasse für die Gemeindebeamten der Rheinprovinz gegründet.

Ein Versicherungsunternehmen hat zahlreiche neue Verträge abgeschlossen. Aus dem folgenden Bilddiagramm ist ersichtlich, wie viele es pro Monat waren.

Trage die Ergebnisse in die Tabelle ein. Errechne dann die Gesamtanzahl und zeichne sie ein.

Monat	Verträge in 1000
Januar	
Februar	
März	
April	
Mai	
Juni	
Gesamt	

Monat	Verträge
Januar	
Februar	
März	
April	
Mai	
Juni	
Gesamt	

Es gibt viele Anlässe für ein Bilddiagramm.

- Befrage deine Klassenkameraden, in welchem Monat sie jeweils Geburtstag haben.
- Frage deine Lehrer nach ihren Lieblingsfarben.
- Welche Lieblingsfächer haben deine Klassenkameraden?

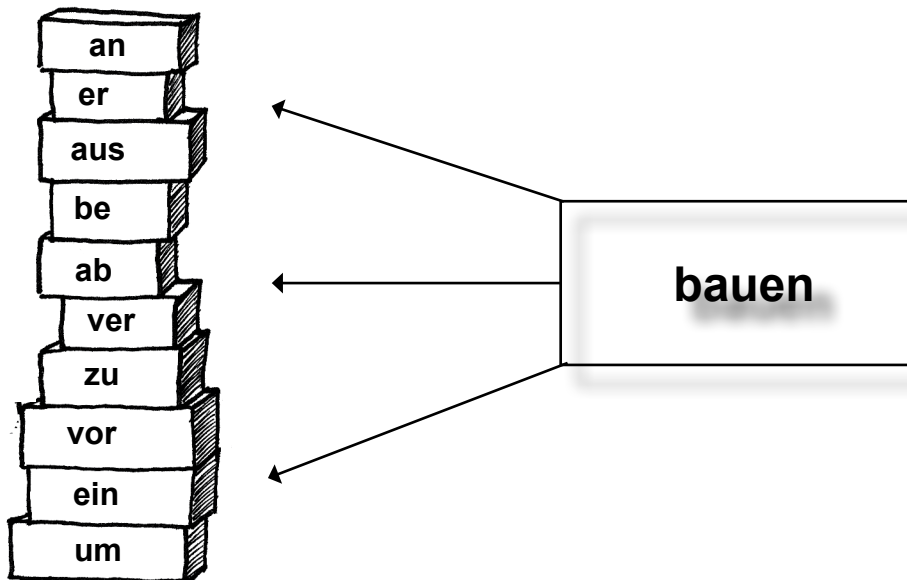
Was trägst du dann in die Tabelle ein?
Wie sieht dein Bilddiagramm dazu aus?

Januar: 2 000, Februar 3 000, März 3 000, April 3 500, Mai 1 500, Juni 3 000 = 15 500 Verträge


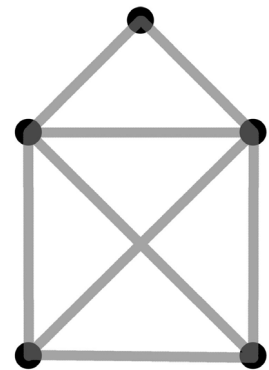
2. Juli

Ums Bauen dreht sich auch diese Aufgabe.

Verbinde diese Vorsilben mit dem Verb „bauen“ und schreibe zu jedem so entstandenen Tunwort einen Satz in dein Heft.



Auf wie viele Arten kannst du ein solches Haus zeichnen, ohne mit dem Stift abzusetzen? Versuch es einmal.



Wir dürfen den Wintergarten anbauen. Sie erbaute eine wunderschöne Kirche. Sie mussten das Dachgeschoss ausbauen. Das Grundstück wurde bebaut. Wir werden das Gartenhäuschen abbauen. Die Sicht ist jetzt verbart. Die Grundstücksgrenze ist komplett zugebart. Er hat mit genügend Sparanlagen vorgebart. Der Elektriker wird den neuen Kühlschrank einbauen. Sie haben ein Baby und müssen nun umbauen.