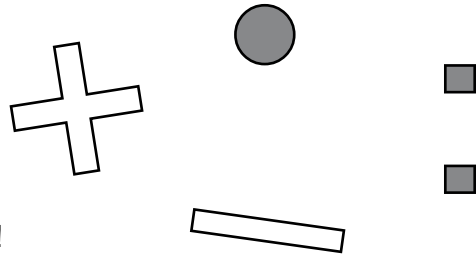




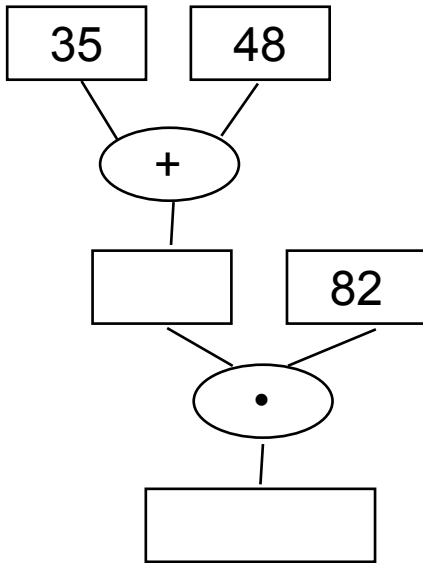
# 25. Oktober



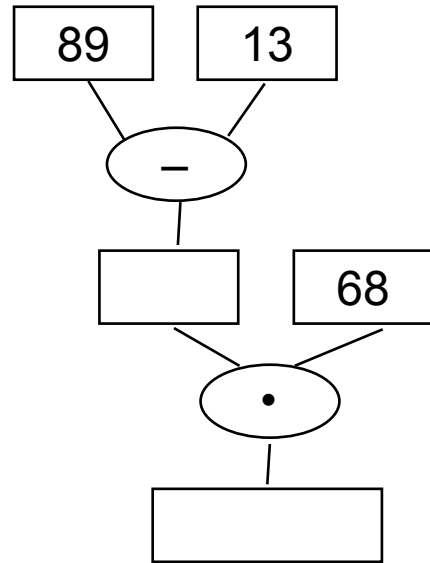
## Ganz besondere Bäume!

Ergänze in jedem Rechenbaum die fehlenden Zahlen!

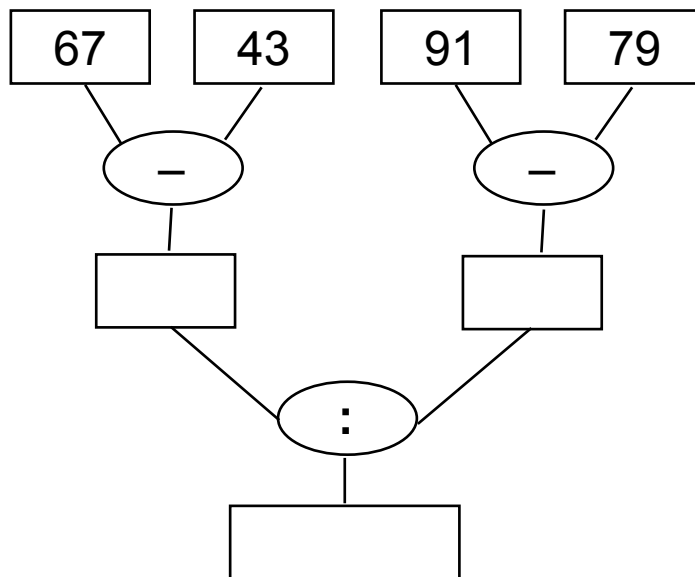
Aufgabe 1:



Aufgabe 2:



Aufgabe 3:



Aufgabe 1:  $35 + 48 = 83$  •  $82 = 83 \cdot 82 = 6806$  - Aufgabe 2:  $89 - 13 = 76$  •  $68 = 76 \cdot 68 = 5168$  - Aufgabe 3:  $67 - 43 = 24$ ,  $91 - 79 = 12$ ,  $24 : 12 = 2$